

平成18年学力検査

全 日 制 課 程 A

第 3 時 限 問 題

社 会

検査時間 11時10分から11時50分まで

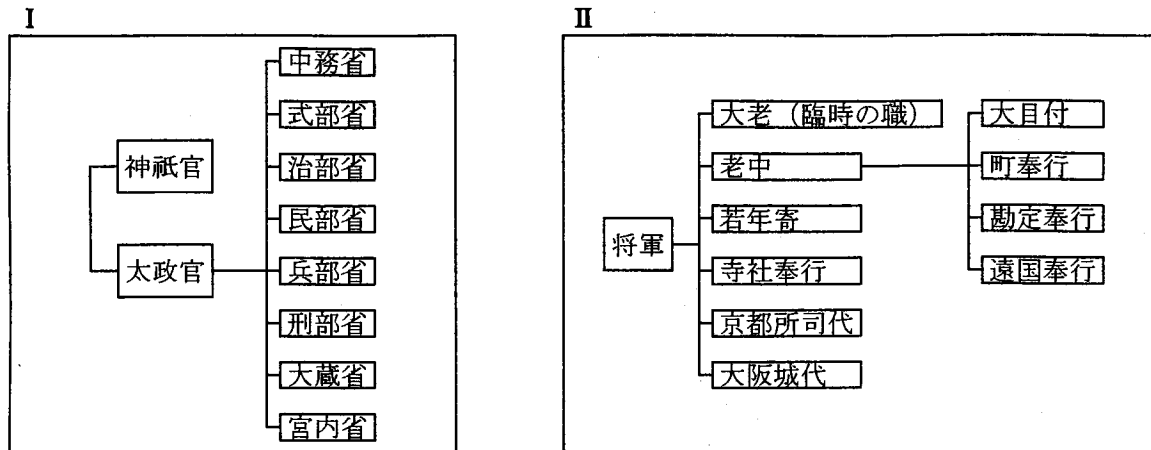
監督の先生の「始め」という指示があるまで、次の注意をよく読みなさい。

注 意

- (1) 解答用紙は、この問題用紙とは別になっています。
- (2) 「始め」という指示で、すぐ学科名と受検番号をこの表紙と解答用紙の決められた欄に書きなさい。
- (3) 問題は(1)ページから(10)ページまであります。表紙の裏と(10)ページの次からは白紙になっています。受検番号などを記入したあと、問題の各ページを確かめ、不備のある場合は手をあげて申し出なさい。
- (4) 答えはすべて解答用紙の決められた欄に書きなさい。
- (5) 印刷の文字が不鮮明なときは、手をあげて質問してもよろしい。
- (6) 「やめ」という指示で、書くことをやめ、解答用紙と問題用紙を別々にして机の上に置きなさい。

学科名	科	受検番号	第	番
-----	---	------	---	---

2 次のⅠ、Ⅱの図は、日本の歴史上のある二つの時代につくられた政治のしくみの一部を表したものである。これらを見て、あとの(1)から(4)までの問いに答えよ。



(1) 次の文章は、Ⅰの図について述べたものである。文章中の()にあてはまる最も適切なことばを、漢字2字で書け。なお、文章中の2か所の()には同じことばがあてはまる。

天皇に権力を集中する国家の建設が進められ、唐にならった法律を定めて、Ⅰの図に示すような政治のしくみがつくられた。このように、唐にならった法律である()にもとづいて政治が行われた国家を、()国家という。

(2) 次のA、B、Cの文は、Ⅰの図に示した政治のしくみがつくられてからⅡの図に示した政治のしくみがつくられるまでの日本の政治について述べたものである。A、B、Cを、年代の古い順に並べたものはどれか。下のアからカまでの中から一つ選んで、そのかな符号を書け。

- A ^{みなしとのよりとも}源頼朝は、国ごとに守護を、荘園や公領ごとに地頭をおくことを朝廷に認めさせた。
- B 公家重視の政策が続いたため武士たちに不満が広がり、建武の新政は2年ほどでくずれた。
- C ^{しらかわ}白河上皇によって院政が行われ、上皇は摂政・関白をおさえて政治の実権をにぎった。

ア A→B→C

イ A→C→B





ウ B→A→C

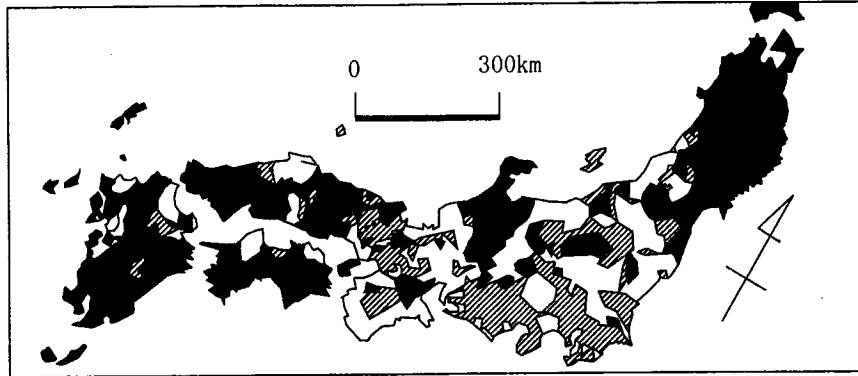
エ B→C→A

オ C→A→B

カ C→B→A

(3) 次の文章中の () にあてはまる最も適当なことばを、漢字2字で書け。

下の略地図は、Ⅱの図に示した政治のしくみがつくられたころの大名などの領地を示したもので、幕府の直轄地を  で示し、幕府をつくった一族や古くからの將軍家の家臣である大名の領地と、それ以外の大名の領地を、  と  のいずれかで示してある。  で示した場所に領地のある大名を () 大名という。



(4) Ⅱの図中における「大老」、「老中」について、時代背景、人物および政策をカードにまとめた。次の時代背景のカードに続く、①、②、③の人物のカードおよび a、b の政策のカードの組み合わせとして最も適当なものを、下のアからカまでの中から選んで、そのかな符号を書け。

時代背景のカード

天保のききんののち、一揆や打ちこわしなどが多く起こっていたが、

人物のカード

① みずのただくに
老中の水野忠邦は、

② たぬまおきつぐ
老中の田沼意次は、

③ い い なおすけ
大老の井伊直弼は、

政策のカード

a
儉約をすすめて、生活のひきしめを行ったり、株仲間を解散したりした。

b
財政を立て直すため、蝦夷地の開発をくわだて、長崎貿易もさかんにしようとした。

ア ①と a


イ ①と b

ウ ②と a

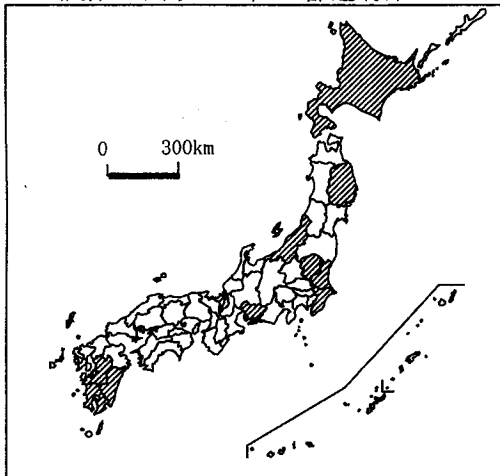
エ ②と b

オ ③と a

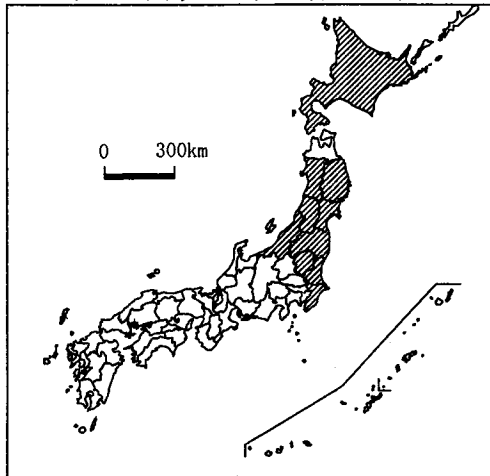
カ ③と b

3 次のⅠ，Ⅱ，Ⅲ，Ⅳの略地図は，それぞれ農業産出額，米の産出額，野菜の産出額および人口について，上位10位までの都道府県について  で示したものである。また，Ⅴの表は，米の日本の輸入量を，相手国別に割合で示し，それぞれの国の米の生産量，米の収穫面積1 haあたり収穫量，日本へのおもな輸出品目もあわせて示したものである。あとの(1)から(4)までの問いに答えよ。なお，Ⅴの表中のA，Bは，アメリカ，中国，ブラジルのうちのいずれかを示している。

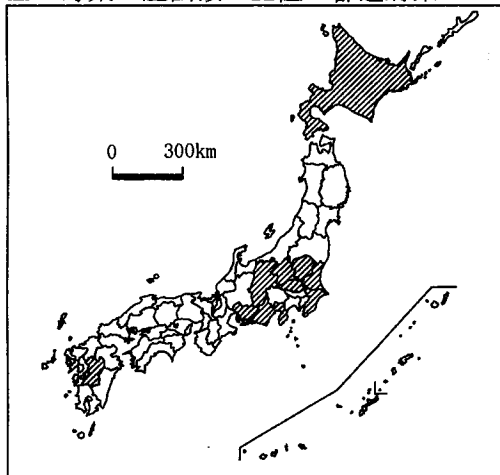
Ⅰ 農業産出額の上位10都道府県



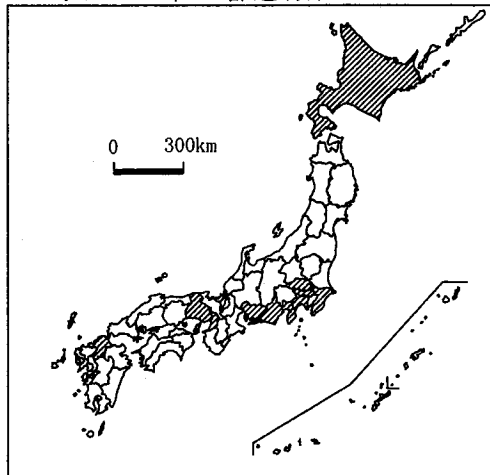
Ⅱ 米の産出額の上位10都道府県




Ⅲ 野菜の産出額の上位10都道府県



Ⅳ 人口の上位10都道府県



(注) ⅠからⅣまでのいずれの図においても沖縄県は  で示された都道府県に入っていない。
(「データでみる県勢 2005年版」による)

Ⅴ 米のおもな輸入相手国

国名	米の輸入量に占める割合 (%)	米の生産量 (千 t)	米の1 haあたり収穫量 (kg/ha)	日本へのおもな輸出品目(額の多い順に4品目)
A	48.0	9 034	7 448	機械類，航空機類，精密機械，とうもろこし
タイ	20.9	27 000	2 455	機械類，魚介類，天然ゴム，精密機械
B	13.9	166 417	6 074	機械類，衣類，精密機械，魚介類
その他	17.2			

(注) 機械類は，一般機械と電気機械を合わせたものである。

(「日本国勢図会 2005/06年版」などによる)

(1) I, II, III, IVの略地図をもとに述べた文として最も適当なものを、次のアからエまでの中から選んで、そのかな符号を書け。

ア 野菜の産出額の上位10都道府県は、人口の上位10都道府県か、それに接する都道府県のいずれかには含まれている。

イ 農業産出額の上位10都道府県は、野菜の産出額の上位10都道府県か、米の産出額の上位10都道府県のいずれかには含まれている。

ウ 野菜の産出額の上位10都道府県は、寒流の千島海流が流れる沿岸部にあるか、夏も冷涼な内陸にあるかのいずれかである。

エ 米の産出額の上位10都道府県はすべて、寒冷な北海道地方、東北地方のいずれかに含まれている。

(2) 次の表は、4県の米の産出額、野菜の産出額、人口を示したもので、表中のa, b, c, dは、愛知県、茨城県、佐賀県、山形県のいずれかである。茨城県、佐賀県はそれぞれa, b, c, dのどれか。その組み合わせとして最も適当なものを、下のアからカまでの中から選んで、そのかな符号を書け。

	米の産出額 (億円)	野菜の産出額 (億円)	人口 (千人)
a	356	1 097 (4位)	7 158 (4位)
b	989 (6位)	1 526 (3位)	2 991
c	977 (7位)	342	1 230
d	348	309	872

(注) 順位を示した県は、それぞれ上位10都道府県に含まれる県である。
 (「データでみる県勢 2005年版」による)

- ア 茨城県 a, 佐賀県 b イ 茨城県 a, 佐賀県 c
 ウ 茨城県 b, 佐賀県 c エ 茨城県 b, 佐賀県 d
 オ 茨城県 c, 佐賀県 b カ 茨城県 c, 佐賀県 d

(3) 次の文章中の(①), (②)にあてはまることばの組み合わせとして最も適当なものを、下のアからエまでの中から選んで、そのかな符号を書け。なお、文章中の2か所の「X県」、2か所の「Y県」には、それぞれ同じ県名があてはまる。

(①)川は、X県で海にそそいでいる。X県は(②)平野が広がり、米の産出額の上位10都道府県の一つである。この川をさかのぼるとY県に到達する。Y県は内陸にあり、野菜の産出額の上位10都道府県の一つである。

- ア ① 筑後, ② 筑紫 イ ① 木曾, ② 濃尾
 ウ ① 信濃, ② 越後 エ ① 北上, ② 仙台

(4) Vの表中のA, Bにあてはまる国名の組み合わせとして最も適当なものを、次のアからカまでの中から選んで、そのかな符号を書け。

- ア A アメリカ, B ブラジル イ A アメリカ, B 中国
 ウ A ブラジル, B アメリカ エ A ブラジル, B 中国
 オ A 中国, B アメリカ カ A 中国, B ブラジル

4 次のA, B, C, Dの4枚のカードは、世界の4国について説明したものである。あとの(1), (2)の問いに答えよ。なお、4枚のカードは、それぞれインド、ベトナム、モンゴル、ロシアのいずれかを示している。

A この国は、世界で最も面積が大きい国で、日本の50倍近くになる。社会主義の国が1991年に解体して、独立した国々の一つである。

B この国を建設した民族は、13世紀にアジアからヨーロッパにかかる大帝國を築いた。13世紀から14世紀にかけて中国も支配した。

C この国は、1954年以降、南北に分かれていた。アメリカの介入で戦争が激しくなったが、やがて1976年に統一された。

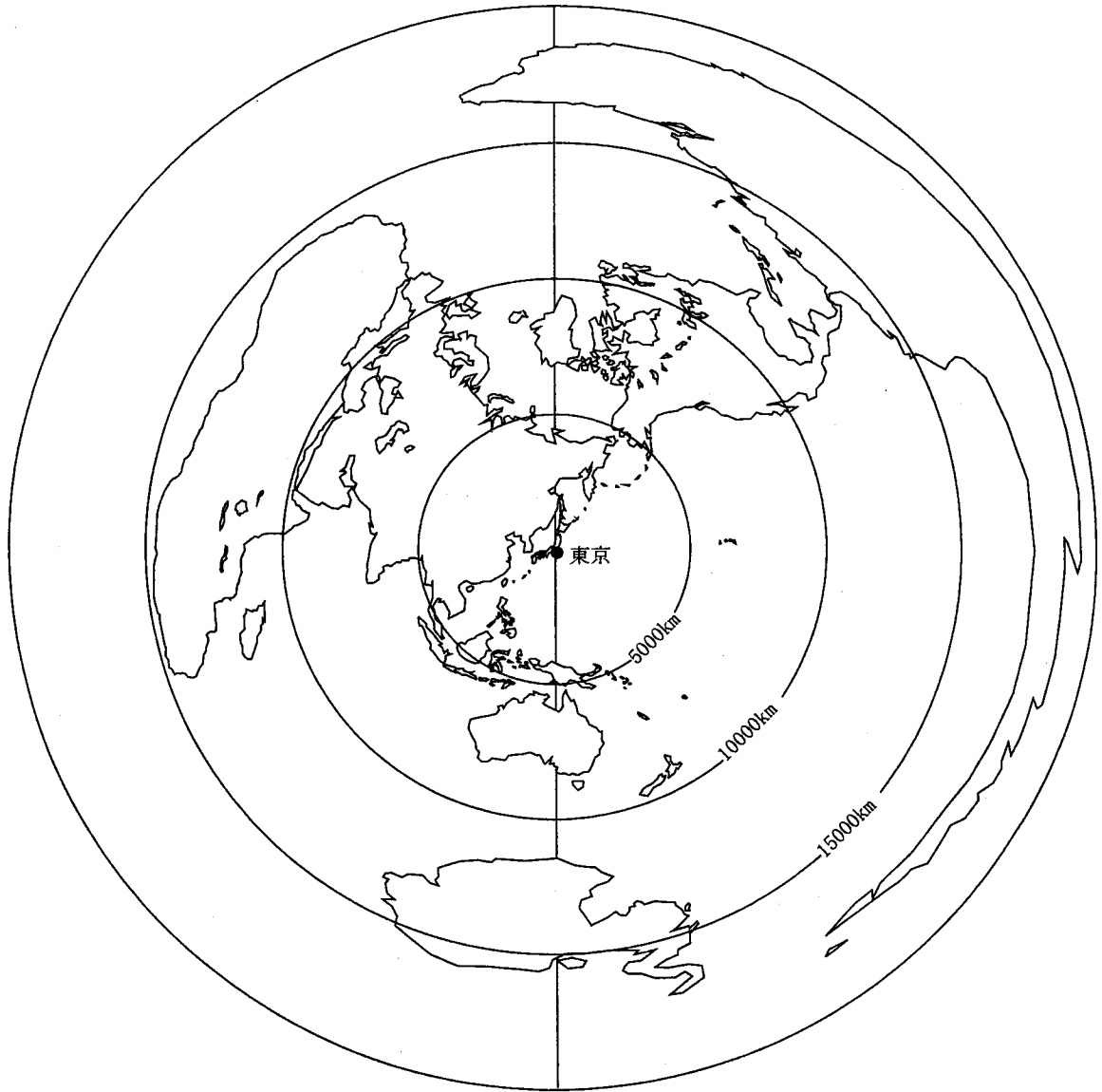
D この国のある地域において、紀元前に、シャカによって仏教が開かれた。一時イギリスに支配されたが、20世紀に独立した。

(1) 次の表はA, B, C, Dのカードに示された4国の人口、首都の年間平均気温、首都の年間降水量を示したもので、4国はそれぞれ表中の①, ②, ③, ④のうちいずれか一つにあてはまる。表中の②にあてはまる最も適当な国を示すカードを、A, B, C, Dの中から選んで、その符号を書け。

国名	人口 (千人)	首都の年間平均気温 (°C)	首都の年間降水量 (mm)
①	1 065 462	25.0	779.1
②	143 246	5.3	705.3
③	81 377	23.5	1 704.1
④	2 594	-1.3	281.8

(「世界国勢図会 2004/05年版」などによる)

(2) 次の略地図は、東京から世界の各地への距離と方位を正しく表すように描いたものである。略地図上で考えたとき、A、B、C、Dのカードに示された4国の位置について述べた文として最も適当なものを、下のアからエまでの中から選んで、そのかな符号を書け。



- ア 4国のうち、東京からイギリスのロンドンまで最短距離をたどる経路を進むとすると、その領土を通らない位置にある国が、一つだけある。
- イ 4国のうち、東京から首都までの距離が、東京からアメリカのニューヨークまでの距離よりも遠い位置にある国が、一つだけある。
- ウ 4国のうち、いずれの国も、東京から真西に向かって進むとすると、地球の反対側に達するまでにその領土を通る位置にある。
- エ 4国のうち、いずれの国も、東京からオーストラリアのシドニーまで最短距離をたどる経路を進むとすると、その領土を通らない位置にある。

5 次のⅠの文章は、「個人と社会生活」についての授業を受けた生徒のまとめである。Ⅱの表は、2000年から2025年までの5年ごとの家族類型別世帯数を示し、Ⅲの表は、世帯主が65歳以上の世帯について、同時期の家族類型別世帯数を示している。あとの(1)から(4)までの問いに答えよ。

I

わたしたちが個人としてかかわりをもつ社会集団としては、家族、学校、地域社会などがあるが、その中でもわたしは特に家族に関心を持ち、家族の^①これまでとこれからのあり方について調べようと思った。そこで、現在40歳の人に、25年前、現在、25年後の家族についてインタビューを行った。

インタビューの結果、家族は、この人にとって年齢や時代によって姿を変えているようだと感じた。わたしは家族の役割について真剣に考えてみたいと思った。^②

25年前	現在	25年後
そのころは7人家族で、両親だけではなく、祖父母からもたくさん礼儀や作法を教えてもらった。	配偶者と子ども2人の家族だが、家族で過ごす時間を大切に、配偶者とともに子どもの成長を一番の楽しみにしている。	配偶者と助け合わなければならないと思うが、老後の生活は不安である。 <u>社会保障</u> にも期待している。 ^③

Ⅱ 家族類型別世帯数 (単位 千世帯)

年	核家族世帯	単独世帯	その他の世帯	合計
2000	27 332	12 911	6 539	46 782
2005	28 575	14 218	6 247	49 040
2010	28 990	15 169	5 981	50 139
2015	28 731	15 984	5 761	50 476
2020	28 033	16 663	5 574	50 270
2025	27 083	17 159	5 401	49 643

Ⅲ 世帯主が65歳以上の世帯の家族類型別世帯数

(単位 千世帯)

年	核家族世帯	単独世帯	その他の世帯	合計
2000	6 061	3 032	2 043	11 136
2005	7 447	3 861	2 068	13 376
2010	8 602	4 709	2 095	15 406
2015	9 725	5 664	2 227	17 616
2020	9 928	6 354	2 189	18 471
2025	9 566	6 801	2 059	18 426

(注) 2000年は国勢調査をもとにしている。2005年以降の数値については推計値である。各類型別世帯数を合わせた数が合計と一致しないのは、百の位の四捨五入による。

単独世帯とは、一人で生活している世帯をいう。

(Ⅱ、Ⅲの表は「日本の世帯数の将来推計(全国推計) 2003年10月推計」による)

(1) 家族について述べた次の文中の (A)、(B) のそれぞれにあてはまることばの組み合わせ^①として最も適当なものを、下のアからカまでの中から選んで、そのかな符号を書け。

日本国憲法第24条では、家族生活における「個人の (A) と (B) の本質的平等」が定められており、この考え方にもとづいて、基礎的な社会集団の一つである家族について、結婚や財産の相続などに関する規定が法律で定められている。

ア A 権利, B 人間

イ A 権利, B 親子

ウ A 権利, B 両性

エ A 尊厳, B 人間

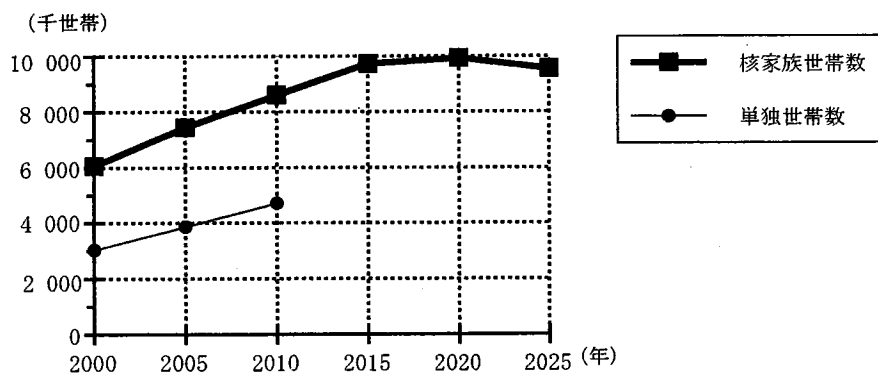
オ A 尊厳, B 親子

カ A 尊厳, B 両性

(2) IIの表をもとに、Iの文章中の、家族が姿を変えていくようすについて述べた文として最も適当なものを、次のアからエまでの中から選んで、そのかな符号を書け。

- ア 2000年をもとにすると、2025年の世帯数の合計は200万世帯以上増加し、単独世帯の占める割合は低下すると予想される。
- イ 2025年のその他の世帯数は、2000年のその他の世帯数の1割以上減少するのに対して、2025年の単独世帯数は、2000年の単独世帯数の3割以上増加することが予想される。
- ウ 2020年をもとにすると、2025年の世帯数の合計は減少するが、これは核家族世帯と単独世帯の世帯数がともに減少することが予想されるためである。
- エ 2000年には、核家族世帯数は世帯数の合計の3分の2以上となっており、さらに2010年、2020年とその割合は増加していくことが予想される。

(3) IIIの表をもとに、次のグラフを完成せよ。さらに、2025年の世帯主が65歳以上の単独世帯数は2000年の約何倍になると予想されるか。その値として最も適当なものを、下のアからエまでの中から選んで、そのかな符号を、解答用紙の☆印欄に書け。

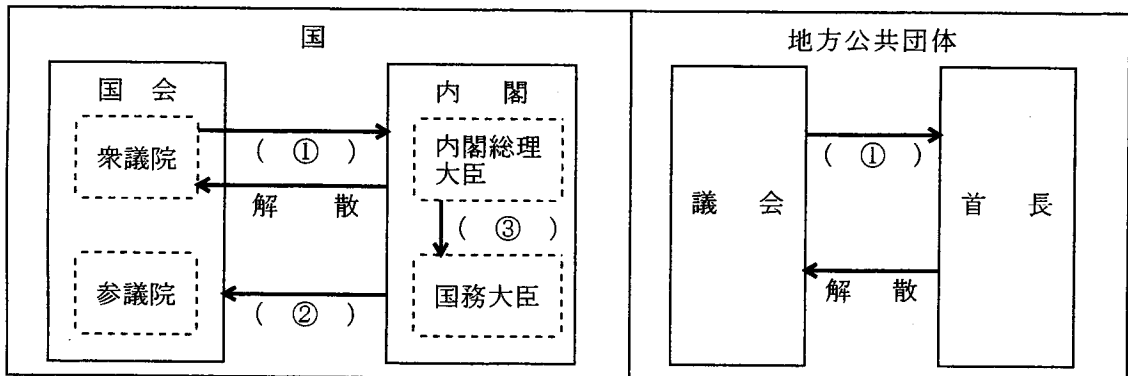


- ア 約1.2倍 イ 約1.7倍 ウ 約2.2倍 エ 約2.7倍

(4) 現在の日本の社会保障制度について述べた文として誤っているものを、次のアからエまでの中から一つ選んで、そのかな符号を書け。

- ア 日本の社会保障制度は、日本国憲法の生存権の規定にもとづいて整備され、社会保険、公的扶助、社会福祉、公衆衛生などを基本的な柱としている。
- イ 社会保障制度の一つである公的扶助においては、生活に困っている人々の生活を保障するために、生活保護法にもとづいた制度が実施されている。
- ウ 日本の社会保障制度には、介護を必要とする人々が在宅あるいは施設での福祉サービスを受けることができるという介護保険制度が導入されている。
- エ 現在の日本の社会保障制度では、国や地方公共団体がすべての社会保険の保険料を税金によって全額負担するしくみになっている。

6 Aさんは、国における国会と内閣の関係と、地方公共団体における議会と首長の関係について調べて発表した。次の図は、そのときに使用したパネルである。あとの(1)から(3)までの問いに答えよ。なお、図中の2か所の(①)には同じことばがあてはまる。



(1) 図中の(①)は、衆議院または地方公共団体の議会がもつ内閣または地方公共団体の首長に対する権限、図中の(②)は、内閣の国会に対する関係、図中の(③)は、内閣総理大臣が国务大臣に対してもつ権限を示している。図中の(①)、(②)、(③)にあてはまることばの組み合わせとして最も適当なものを、下のアからカまでの中から選んで、そのかな符号を書け。

- ア ① 不信任, ② 優越, ③ 任免 イ ① 不信任, ② 連帯責任, ③ 弾劾
 ウ ① 不信任, ② 連帯責任, ③ 任免 エ ① 違憲審査, ② 連帯責任, ③ 弾劾
 オ ① 違憲審査, ② 優越, ③ 任免 カ ① 違憲審査, ② 優越, ③ 弾劾

(2) 国の政治と地方の政治について述べた文として最も適当なものを、次のアからエまでの中から選んで、そのかな符号を書け。

- ア 地方公共団体の首長は、住民による直接選挙で選ばれるが、内閣総理大臣は国会の議決で指名される。
 イ 国民や住民がある一定以上の署名を集めれば、国会の各議院も地方議会も解散させることができる制度が定められている。
 ウ 国会のもつ権限の一つとして、衆議院だけに国の政治全般について調査する権限が与えられているが、地方議会には、各地方政治について調査する権限は与えられていない。
 エ 国会が法律と国の予算を議決することができるのに対して、地方議会は法律を制定することはできるが、地方公共団体の予算を議決することはできない。

(3) 内閣総理大臣およびその他の国务大臣が参加して、内閣の方針や行政の運営について決定するために、通常は非公開で実施される会議の名称を、漢字2字で書け。

(問題はこれで終わりです。)